

## 2020—2021 学年度第二学期三年级期中检测试卷

## 数学

贴条形码区域

本试卷满分 100 分，考试时间为 90 分钟

题号	一	二	三	四	五	六	七	总成绩
得分								

## 一、填空。(每空 1 分, 共 20 分)

1. 下列现象中, 是平移的在□里画“△”, 是旋转的在□里画“○”。



上下电梯 □



荡秋千 □





升国旗 □



滑雪 □

2. 一个数除以 7, 商是 30, 余数是 6, 这个数是 ( )。
3.  $793 \div 7$  的商是 ( ) 位数;  $562 \div 2$  的商的最高位在 ( ) 位上。
4. 15 与 80 的积的末尾有 ( ) 个零。
5. 要使  $6 \square 1 \div 3$  的商中间有 0, 且没有余数, □里应填 ( ); 要使商的末尾有 2 个 0, □里应填 ( )。
6. 在括号里填上最大的数。
- ( )  $\div 6 < 23$        $5 \times ( ) < 216$       ( )  $\times 7 < 181$
7. 6 吨 = ( ) 千克      7000 克 = ( ) 千克
8. 学校买足球, 每个 85 元, 买 10 个应付 ( ) 元, 买 14 个应付 ( ) 元。
9. 估算  $58 \times 22$  时, 可以把 58 看成 ( ), 把 22 看成 ( ), 所以  $58 \times 22 \approx ( )$ 。

## 二、判断。(对的打“√”, 错的打“×”) (5 分)

- ( ) 1. 余数不能大于或等于除数。
- ( ) 2. 两个最小的两位数的积是 121。
- ( ) 3.  是由右图通过平移得到的 .
- ( ) 4.  $38 \times 27$  积的最高位是百位。
- ( ) 5. 3 千克水比 3000 克冰轻。

## 三、选择。(将正确答案的序号填在括号里) (10 分)

1. 与  $36 \times 25$  的积相等的是 ( )。
- A.  $23 \times 56$       B.  $50 \times 18$       C.  $26 \times 35$
2. 从 360 里连续减去 ( ) 个 6, 结果是 0。
- A. 61      B. 60      C. 59
3. 下列质量中, 最重的是 ( )。
- A. 5100 千克      B. 6000 克      C. 4 吨 600 千克
4. 一个三位数除以一个一位数, 余数是 8, 这个一位数是 ( )。
- A. 8      B. 9      C. 无法确定
5. 30 名同学游园, 商店进行“买 5 送 1”的活动, 如果每人 1 瓶矿泉水, 只需买 ( ) 瓶。
- A. 24      B. 25      C. 30

## 四、找朋友。(连一连) (4 分)



798



350



2100



972

 $38 \times 21$  $50 \times 42$  $36 \times 27$  $25 \times 14$ 

## 五、计算。(26 分)

1. 直接写出得数。(8 分)

$750 - 5 =$

$240 \div 2 =$

$26 \times 30 =$

$12 \times 20 =$

$11 \times 17 =$

$27 \times 20 =$

$(15 + 35) \times 6 =$

$720 \div 8 \times 5 =$

2. 用竖式计算。(带△的要验算) (12 分)

$76 \times 28 =$

$576 \div 6 =$

$\triangle 814 \div 9 =$

$53 \times 29 =$

$\triangle 457 \div 2 =$

$46 \times 80 =$

3. 脱式计算。(6分)

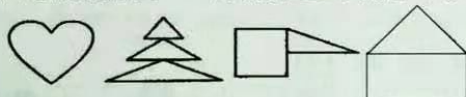
$(18 + 24) \times 25$

$974 - 23 \times 14$

$27 \times 30 \div 9$

六、画一画。(14分)

1. 下面图形中，是轴对称图形的画“☆”，并给它们画上一条对称轴。(8分)

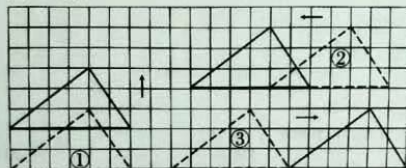


( ) ( ) ( ) ( )



( ) ( ) ( ) ( )

2. 移一移，说一说。(6分)



图①向( )平移了( )格；图②向( )平移了( )格；  
图③向( )平移了( )格。

七、解决问题。(1—3题每题5分，第4题6分，21分)

1. 一本故事书有450页，明明平均每天看32页，两星期能看完吗？

2. 买一套桌椅(1张桌子和1把椅子)多少钱？



3. 利民超市现有128瓶饮料，平均放在2个柜台里，每个柜台有4层。平均每层能放多少瓶饮料？

4. 小冬家有6行苹果树，每行8棵，今年平均每棵收获苹果25千克。

(1) 今年他家一共收获苹果多少千克？

(2) 如果每千克苹果卖5元钱，一共可以卖多少钱？